

Proposition de corrigé

Concours : Banque PT

Année : 2010

Filière : PT

Épreuve : Sciences Industrielles B

Ceci est une proposition de corrigé des concours de CPGE, réalisée bénévolement par des enseignants de Sciences Industrielles de l'Ingénieur et d'Informatique, membres de l'[UPSTI](http://www.upsti.fr) (Union des Professeurs de Sciences et Techniques Industrielles), et publiée sur le site de l'association :

<https://www.upsti.fr/espace-etudiants/annales-de-concours>

A l'attention des étudiants

Ce document vous apportera des éléments de corrections pour le sujet traité, mais n'est ni un corrigé officiel du concours, ni un corrigé détaillé ou exhaustif de l'épreuve en question.

L'UPSTI ne répondra pas directement aux questions que peuvent soulever ces corrigés : nous vous invitons à vous rapprocher de vos enseignants si vous souhaitez des compléments d'information, et à vous adresser à eux pour nous faire remonter vos éventuelles remarques.

Licence et Copyright

Toute représentation ou reproduction (même partielle) de ce document faite sans l'accord de l'UPSTI est **interdite**. Seuls le téléchargement et la copie privée à usage personnel sont autorisés (protection au titre des [droits d'auteur](#)).

En cas de doute, n'hésitez pas à nous contacter à : corrigesconcours@upsti.fr.

Informez-vous !

Retrouvez plus d'information sur les [Sciences de l'Ingénieur](#), l'[orientation](#), les [Grandes Ecoles](#) ainsi que sur les [Olympiades de Sciences de l'Ingénieur](#) et sur les [Sciences de l'Ingénieur au Féminin](#) sur notre site : www.upsti.fr

L'équipe UPSTI

Scooter MP3 (Piaggio)

**Réponse 1**

$mc = 1$ une mobilité utile (mvt de $B_1/0$) ; $Ic = 6 \times 1 = 6$ inconnues cinématiques
 $rc = Ic - mc = 6 - 1 = 5$ équations indépendantes ; $\gamma = L - N + 1 = 6 - 5 + 1 = 2$ boucles indép.

Hyperstatisme : $h = Ec - rc = 6\gamma - 5 = 7$

Commentaires : le système est hyperstatique car la rigidité de l'ensemble est à privilégier. Certains degrés de surabondance peuvent cependant être inutiles et augmentent les contraintes géométriques à respecter pour le montage.

Réponse 2

Avec I_s les inconnues d'actions de liaison et r_s le nombre d'équations indépendantes

Possibilité de résoudre : $h = I_s - r_s = 7$ et la résolution est alors impossible sans informations supplémentaires

Justification : le système d'équations à une solution si le nombre d'inconnues d'actions de liaison est égal au nombre d'équations indépendantes

Réponse 3

30Ni Cr11

signification : acier faiblement allié composé de fer, 0,3% de carbone, 2,75% de nickel et <1% de chrome

valeur module d'Young : 200000 MPa

EN AC-43100 (AlSi10Mg)

Signification : alliage d'aluminium composé de Aluminium avec 10% de silicium et des traces de Magnésium.

Valeur module de Young : 70000 MPa

Mode d'obtention : moulage car formes complexes avec des parties creuses et matériau adapté.

Réponse 4

$$R_x(x) = Xi$$

$$R_y(y) = 0$$

$$R_z(z) = 0$$

$$M_x(x) = 0$$

$$M_y(y) = 0$$

$$M_z(z) = 0$$

Remarque : le torseur $\{T_{Bj \rightarrow C3}^{Ai}\}$ donné page T7/20 ne correspond pas aux signes des actions tracées sur le document 4 (la réponse est donnée à partir du document 4).

Nature de la sollicitation : traction (présence seulement d'un effort normal).

$$\delta_{xi} = \int_0^L \frac{Xi}{E.S} dx = \frac{Xi.L}{E.S} = \frac{Xi.L}{E.b.h} \quad k_{xi} = \frac{E.b.h}{L} \quad \text{En effet : } \frac{d\delta_{xi}}{dx} = \frac{Xi}{E.S}$$

Réponse 5

$$R_x(x) = 0$$

$$R_y(y) = Yi$$

$$R_z(z) = 0$$

$$M_x(x) = 0$$

$$M_y(y) = 0$$

$$M_z(z) = (L-x)Yi$$

Nature de la sollicitation : flexion simple

$$\delta_{Yi} = \frac{Yi.L^3}{3.E.I_z} \quad k_{Yi} = \frac{Yi}{\delta_{Yi}} = \frac{3.E.I_z}{L^3} \quad I_z = \frac{h.b^3}{12}$$

$$\text{En effet : } E.I_z \cdot \frac{d^2\delta_{Yi}}{dx^2} = (L-x).Yi \text{ et } \frac{d\delta_{Yi}(0)}{dx} = 0 ; \delta_{Yi}(0) = 0$$

Réponse 6

On isole C_3

Bilan des actions mécaniques :

$$\{T_{B1 \rightarrow C3}^{A1}\} \equiv \left\{ \begin{array}{l} -X_1 \vec{x} - Y_1 \vec{y} - Z_1 \vec{z} \\ \vec{0} \end{array} \right\}_{A1}$$

$$\{T_{B1 \rightarrow C3}^{A2}\} \equiv \left\{ \begin{array}{l} -X_2 \vec{x} - Y_2 \vec{y} - Z_2 \vec{z} \\ \vec{0} \end{array} \right\}_{A2}$$

$$\{T_{B2 \rightarrow C3}^{A3}\} \equiv \left\{ \begin{array}{l} -X_3 \vec{x} - Y_3 \vec{y} - Z_3 \vec{z} \\ \vec{0} \end{array} \right\}_{A3}$$

$$\{T_{B2 \rightarrow C3}^{A4}\} \equiv \left\{ \begin{array}{l} -X_4 \vec{x} - Y_4 \vec{y} - Z_4 \vec{z} \\ \vec{0} \end{array} \right\}_{A4}$$

$$\{T_{\text{suspension} \rightarrow C3}\} \equiv \left\{ \begin{array}{l} \vec{P}x + \vec{Q}y + \vec{R}z \\ \vec{L}x + \vec{M}y + \vec{N}z \end{array} \right\}_{B_{C3}}$$

Je change les signes des torseurs $\{T_{Bj \rightarrow C3}^{Ai}\}$ donnés page T7/20 de manière à garder la cohérence avec le réponse 4.

Réponse 7

Théorème de la résultante statique :

$$\text{Projection sur } \vec{x} : -X_1 - X_2 - X_3 - X_4 + P = 0$$

$$\text{Projection sur } \vec{y} : -Y_1 - Y_2 - Y_3 - Y_4 + Q = 0$$

$$\text{Projection sur } \vec{z} : -Z_1 - Z_2 - Z_3 - Z_4 + R = 0$$

$$u = \frac{P}{4.k_x}$$

$$v = \frac{Q}{4.k_y}$$

$$w = \frac{R}{4.k_z}$$

De plus on a :

$$X_i = k_x \cdot u_{Ai} \cdot \vec{x} \quad \text{et} \quad \sum_{i=1}^4 u_{Ai} \cdot \vec{x} = 4.u$$

$$Y_i = k_y \cdot u_{Ai} \cdot \vec{y} \quad \text{et} \quad \sum_{i=1}^4 u_{Ai} \cdot \vec{y} = 4.v$$

$$Z_i = k_z \cdot u_{Ai} \cdot \vec{z} \quad \text{et} \quad \sum_{i=1}^4 u_{Ai} \cdot \vec{z} = 4.w$$

Application numérique donnée :

$$u = 1,19 \cdot 10^{-5} m \quad v = 1,20 \cdot 10^{-4} m \quad w = 1,32 \cdot 10^{-5} m$$

Réponse 8

$$\text{Conformité par rapport à FS1 : } \vec{u}_{O_{C3}} = u \vec{x} + v \vec{y} + w \vec{z}$$

$$\text{Soit } \left\| \vec{u}_{O_{C3}} \right\| = \sqrt{u^2 + v^2 + w^2} = 10^{-4} \sqrt{0,12^2 + 1,2^2 + 0,13^2} \approx 1,2 \cdot 10^{-4} m = 0,12 mm$$

La solution est donc conforme au cahier des charges car $\left\| \vec{u}_{O_{C3}} \right\| < 1 mm$

Réponse 9

Démarche : on isole la colonne C_3 et on applique le théorème du moment statique qui donne trois équations.

En utilisant $X_i = k_x \cdot u_{Ai} \cdot \vec{x}$, $Y_i = k_y \cdot u_{Ai} \cdot \vec{y}$ et $Z_i = k_z \cdot u_{Ai} \cdot \vec{z}$ on peut exprimer ces équations en fonction de u , v , w (connues d'après Q7) et α , β et γ (inconnues). Soit un système de 3 équations et 3 inconnues.

<p>Réponse 10</p> $\{T_{Cy \rightarrow 14}^{J_1}\} \equiv \begin{Bmatrix} -\frac{Z_{Cy \rightarrow 14}}{2f} x_{13} + \frac{Z_{Cy \rightarrow 14}}{2} z_{13} \\ 0 \end{Bmatrix}_{J_1}$ <p>Réponse 11</p> $\vec{R}_{P \rightarrow B} \cdot x_{13} = \frac{Z_{14 \rightarrow Cy}}{4f}$ <p>Isolements et théorèmes utilisés :</p> $P_2 = \frac{Z_{14 \rightarrow Cy}}{f \cdot \pi(\phi_c^2 - \phi_p^2)} + P_{atm}$ $P_2 = \frac{923}{0,3 \cdot \pi(30^2 - 15^2)} + 0,1 \approx \frac{923}{675} \approx 1,5 \text{MPa} = 15 \text{bar}$ <p>Réponse 12</p> $C_{res \rightarrow 2} = r_2 \cdot \frac{\cos \theta_{32}}{\cos \theta_{30}} P_2 \cdot \pi \frac{\phi_{mc}^2}{4}$ <p>Isolements et théorèmes utilisés :</p> <p>L'isolement de 3 donne :</p> <p>Réponse 13</p> $\theta_{10,MAX} = 12^\circ$ $K_{Res} = \frac{C_{res \rightarrow 2}}{\theta_{10,MAX} - \Delta \theta_{20,MAX}}$ <p>Application numérique :</p> <p>Réponse 14</p> $C_{m,MAX} = \frac{r_1 \cdot F + C_{res \rightarrow 2} \cdot \frac{Z_V \cdot Z_R'}{Z_1 \cdot Z_R}}{\eta_{RV}}$ <p>Équation du moment pour le ressort</p> <p>Réponse 15</p> <p>Critère : maintien du verrouillage</p>	<p>Isolement de 14 et théorème de la résultante pour montrer que $Y_{Cy \rightarrow 14} = 0 \dots$</p> $\{T_{Cy \rightarrow 14}^{J_2}\} \equiv \begin{Bmatrix} \frac{Z_{Cy \rightarrow 14}}{2f} x_{13} + \frac{Z_{Cy \rightarrow 14}}{2} z_{13} \\ 0 \end{Bmatrix}_{J_2}$ <p>la loi de coulomb à la limite du glissement donne l'action normale en fonction de l'action tangentielle. De plus $Z_{Cy \rightarrow 14} < 0$ et $Z_{Cy \rightarrow 14} = -Z_{14 \rightarrow Cy}$.</p> <p>On isole B et on applique le théorème du moment en B_2 projeté sur z_{13}</p> $\vec{M}_{B_2 Cy \rightarrow B} \cdot z_{13} + \underbrace{\vec{M}_{B_2 13 \rightarrow B} \cdot z_{13}}_{=0} + \vec{M}_{B_2 P \rightarrow B} \cdot z_{13} = 0$ <p>Application numérique donnée : $P_2 = 60 \text{ bar}$</p> <p>On isole 4 et théorème de la résultante projeté sur \vec{y}_0</p> $\vec{R}_{0 \rightarrow 4} \cdot y_0 + \vec{R}_{3 \rightarrow 4} \cdot y_0 + \vec{R}_{pres \rightarrow 4} \cdot y_0 = 0 \text{ avec } \vec{R}_{3 \rightarrow 4} \cdot y_0 = Y_{34} y_3 \cdot y_0 = Y_{34} \cos \theta_{30}$ <p>On isole 2 et théorème du moment en B projeté sur \vec{z}_0</p> $\vec{M}_{B1 \rightarrow 2} \cdot z_0 + \underbrace{\vec{M}_{Bres \rightarrow 2} \cdot z_0}_{=C_{res \rightarrow 2}} + \vec{M}_{B3 \rightarrow 2} \cdot z_0 = 0 \text{ avec } \vec{M}_{B3 \rightarrow 2} \cdot z_0 = r_2 Y_{32} y_2 \cdot y_3$ <p>Application numérique donnée : $C_{res \rightarrow 2} = 126 \text{ Nm}$</p> <p>F légèrement supérieur à 200N pour $\theta_{10} = 12^\circ$</p> $K_{Res} = \frac{126}{12 - 6} = 21 \text{ Nm/deg}$ <p>Th de l'EP appliqué à l'ensemble R, R' et 1 :</p> $P_{mot \rightarrow R/0} + P_{cable \rightarrow 1/0} + P_{res \rightarrow 1/0} + \underbrace{P_{int}}_{=0} = 0$ $\eta_{RV} \cdot C_{m,MAX} \cdot \omega_V - r_1 \omega_{10} \cdot F + C_{res \rightarrow 1} \cdot \omega_{10} = 0$ <p>Application numérique donnée : $C_{m,MAX} = 0,28 \text{ Nm}$</p>
--	---

Réponse 16

Cu Sn 12 Zn 1 P : bronze composé de cuivre + 12% d'étain + 1% de zinc et < 1% de phosphore

42 Cr Mo 4 : acier faiblement allié composé de fer + 0,42% de carbone + 1% de chrome et < 1% molybdène

Justification : couple de matériau ayant un coefficient de frottement faible ce qui permet d'améliorer le rendement de la liaison roue et vis sans fin (la forte réduction permet de conserver l'irréversibilité).

Réponse 17

On peut écrire $\theta_{10\text{MAX}} = (\dot{\theta}_{m,\text{MIN}} \cdot \frac{T_F}{4} + \dot{\theta}_{m,\text{MIN}} \cdot \frac{2T_F}{4}) \frac{Z_V \cdot Z_R'}{Z_1 \cdot Z_R}$ donc :

$$\dot{\theta}_{m,\text{MIN}} = \frac{4}{3T_F} \theta_{10\text{MAX}} \cdot \frac{Z_1 \cdot Z_R}{Z_V \cdot Z_R'}$$

Application numérique : $T_f = 3 - 1 = 2s$

$$\dot{\theta}_{m,\text{MIN}} = \frac{4 \times 12}{3 \times 2} \cdot \frac{140 \times 180}{1 \times 20} \cdot \frac{30}{180} = 1680 \text{ tr/min}$$

Conclusion : pour 1680 tr/min le couple moteur vaut 0,35 Nm > 0,28 Nm. Le moteur convient.

Rmq : il faudrait avoir l'inertie de l'arbre moteur pour estimer les effets dynamiques.

Réponse 18

Puissance des efforts extérieurs :

$$P_{\text{Ext} \rightarrow \varepsilon/0} = \underbrace{P_{\text{mot} \rightarrow V/0}}_{= C_m \omega_{v0}} + \underbrace{P_{\text{cable} \rightarrow I/0}}_{=-K_{\text{cab}} \cdot \theta_{10} \cdot \dot{\theta}_{10}} + \underbrace{P_{\text{res} \rightarrow I/0}}_{=-K_{\text{res}} \cdot \theta_{10} \cdot \dot{\theta}_{10}} + \underbrace{P_{\text{pes} \rightarrow \varepsilon/0}}_{=0} + \underbrace{P_{0 \rightarrow \varepsilon/0}}_{=0} = C_m \omega_{v0} - (r_1 \cdot K_{\text{cab}} + K_{\text{res}}) \cdot \theta_{10} \cdot \dot{\theta}_{10}$$

$$\text{avec } \frac{\dot{\theta}_{10}}{\omega_{v0}} = \frac{Z_V \cdot Z_R'}{Z_1 \cdot Z_R}$$

Réponse 19

Puissance des efforts intérieurs :

$$P_{\text{Int}} = P_{\text{mot} \rightarrow V/0} \cdot (\eta_{RV} - 1)$$

Les autres liaisons sont supposées parfaites, elles ne dissipent donc pas de puissance.

Réponse 20

Energie cinétique :

$$E_c(\varepsilon/0) = \frac{1}{2} I_V \omega_{v0}^2 + \frac{1}{2} I_R \omega_{R0}^2 + \frac{1}{2} I_1 \omega_{10}^2 = \frac{1}{2} \left(I_V + I_R \left(\frac{Z_V}{Z_R} \right)^2 + I_1 \left(\frac{Z_V \cdot Z_R'}{Z_R \cdot Z_1} \right)^2 \right) \omega_{v0}^2$$

Réponse 21

On suppose que le moment d'inertie du moteur se trouve dans le terme I_v .

$$C_{eq} = (r_1 \cdot K_{cab} + K_{res}) \left(\frac{Z_V \cdot Z_{R'}}{Z_1 \cdot Z_R} \right)^2$$

$$I_{eq} = I_v + I_R \left(\frac{Z_V}{Z_R} \right)^2 + I_1 \left(\frac{Z_V \cdot Z_{R'}}{Z_R \cdot Z_1} \right)^2$$

Pour trouver les résultats ci-contre, on utilise le théorème de l'E.P. appliqué à ε (avec rotor moteur)

$$P_{Ext \rightarrow \varepsilon/0} + P_{Int} = \frac{d}{dt} E_c(\varepsilon/0)$$

Réponse 22

Puissance électrique maximale consommée : $\frac{36}{0,5} = 72 \text{ W}$

Conclusion : cette puissance reste inférieure à 80 W. Le cahier des charges est respecté.

Réponse 23

Charge radiale équivalente $P = \sqrt{300^2 + 300^2} = 100\sqrt{18} \approx 400 \text{ N}$ doit être $<$ à C_0

Dimensions minimales :
Le rlt avec $C = 2080 \text{ N}$
et $C_0 = 1260 \text{ N}$ convient.
Dimensions $15 \times 24 \times 5$.

Durée souhaitée $L = \frac{H \cdot 60 \cdot N}{10^6} = \frac{100 \times 60 \times 1}{10^6} = 6 \times 10^{-3}$ million de tour

$L = (C/P)^3$ soit $C = L^{1/3} \cdot P \approx 0,2 \times 400 = 80 \text{ N}$ (*valeur négligeable prévisible*)

Réponse 24

Calcul dynamique

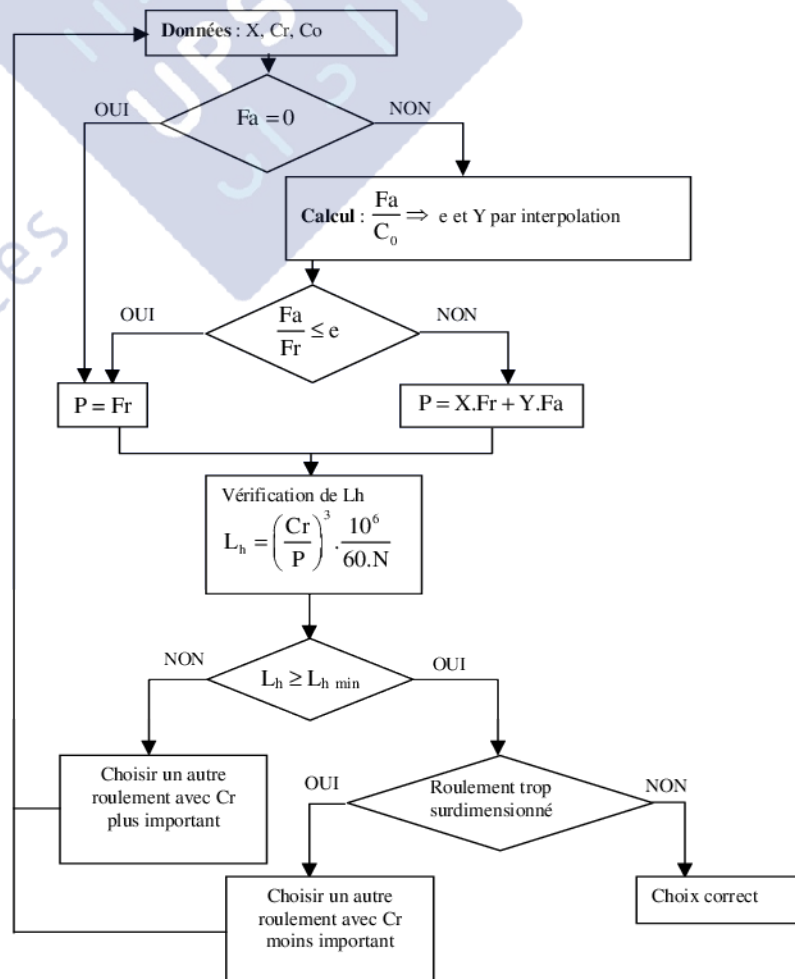
Organigramme :

Vérification en statique :

$P_0 = \text{MAX}(F_r ; X_0 \cdot F_r + Y_0 \cdot F_a)$
on doit vérifier que $P_0 < C_0$.

(Valeurs catalogue $X_0 = 0,6$ et $Y_0 = 0,5$)

Rmq : c'est ici le critère le plus important vue la fréquence de rotation très faible. L'algorithme ci-contre est donné ici à titre d'information.



Réponse 25

Explication

Dénomination de la tolérance : symétrie

Élément tolérancé : surface médiane dérivée de deux surfaces nominalement planes

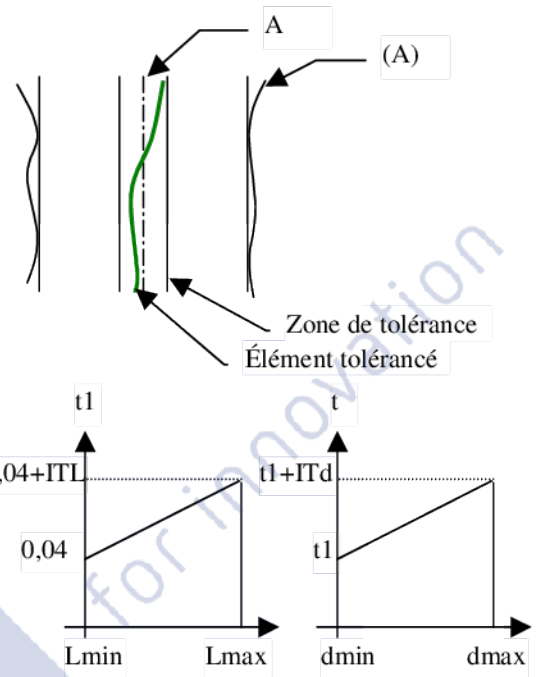
Élément de référence : surface (A) nominalement cylindrique

Référence spécifiée : axe A du plus grand cylindre inscrit dans (A)

Zone de tolérance : deux plans // symétriques par rapport à A et distants de $t \geq 0,04$. t vaut 0,04 quand les éléments tolérancé et de référence sont aux maximum de matière.

Justification : le levier doit pouvoir se monter sur l'arbre équipé de la clavette ce qui impose le respect de la symétrie

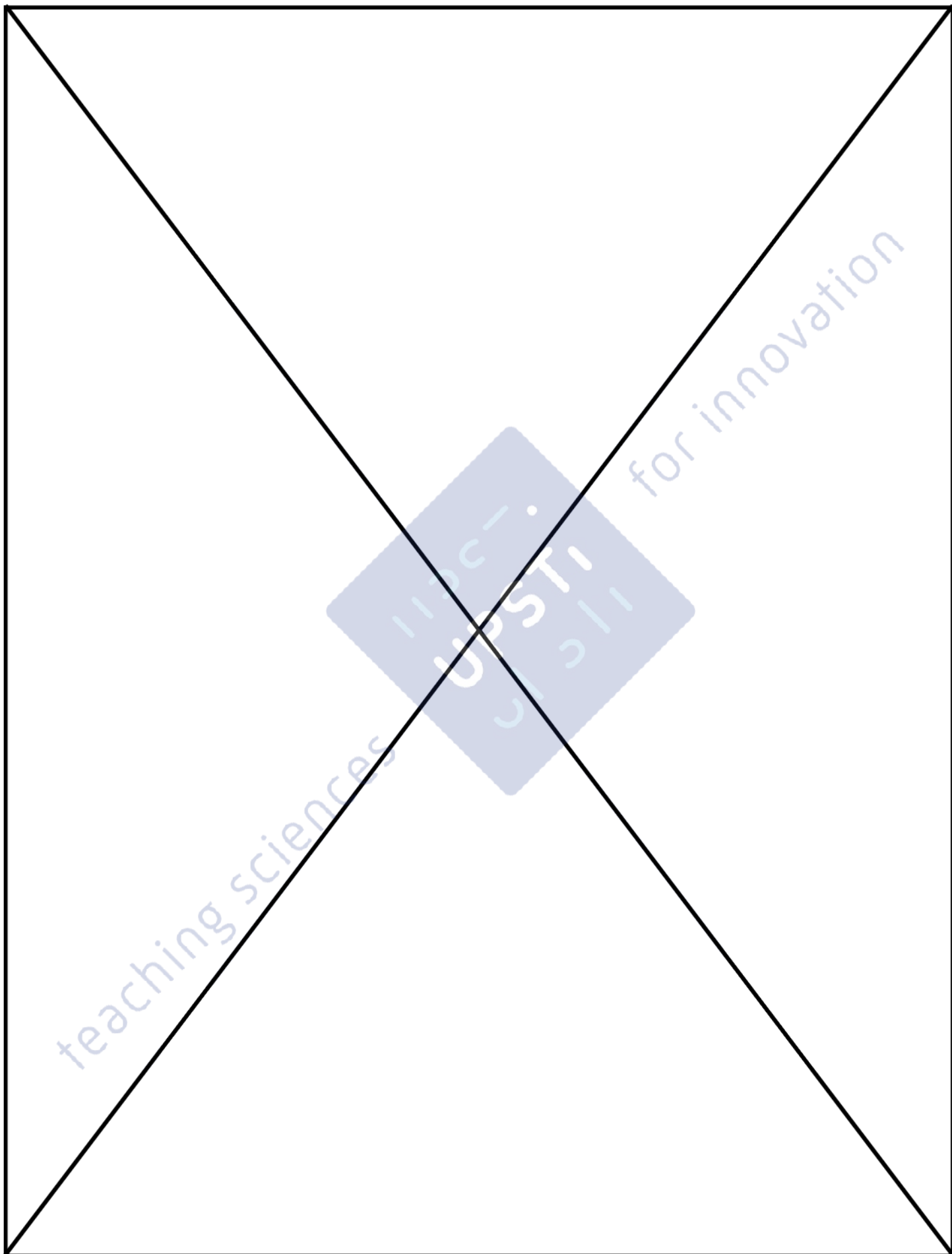
Croquis :



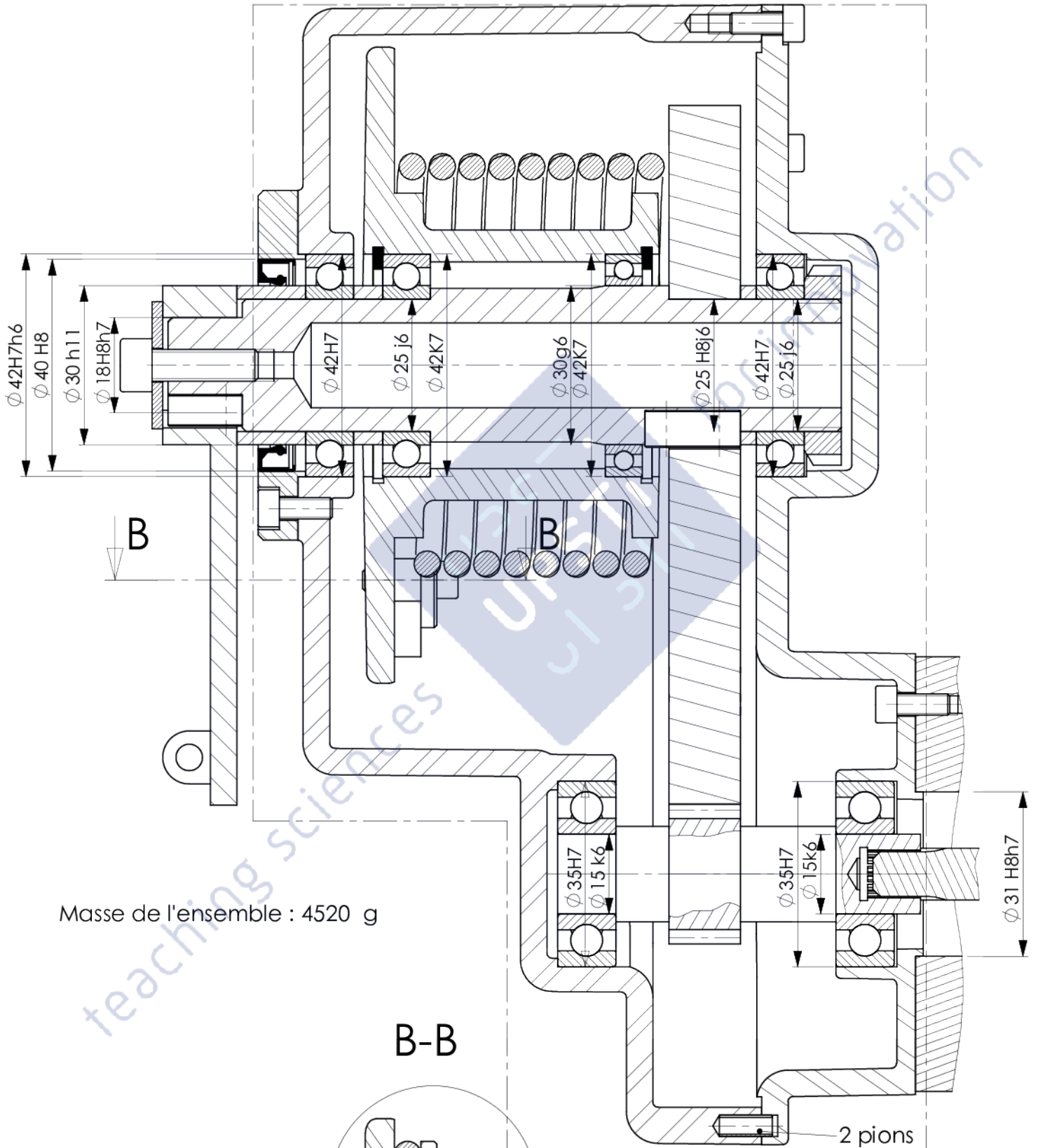
Réponse 26

		Adaptée aux mouvements relatifs			Adaptée aux	
		Aucun	Translation	Rotation	Vitesse relatives élevées (> 10m/s)	Pression relatives élevées (> 10MPa)
Solution technique	Chicanes - rainures		X	X	X	
	Joint à lèvres radiales			X	X	
	Joint torique		X	X		X
	Joint quadrilobe		X	X		X
	Joint plat	X				X
	Joint V-Ring (une marque !!!)			X	X	
	Soufflet		X			

Solution retenue : joint à lèvres radiales (évite d'avoir des fuites de graisse ce qui n'est pas compatible avec l'environnement du véhicule). Le montage se fera dans le sens habituel car le graissage est réalisé au montage (sans graisseur). Un soufflet pour l'étanchéité entre la bielle 3 et le carter.



A-A



Banque PT SIB 2010
Corrigé UPSTI